

## **איתור נקודות (20 שאלות – 50 דקות)**

אוקטובר 2012

**שימו לב** – מומלץ להיעזר בנתונים המופיעים על גבי התמונות: מדידות של צונים, מספרי מרווחים בין-צלעיים, מספרי צלעות, מספרי חוליות, שמות השרירים והגידים וכדומה.

### **שאלות 1-10:**

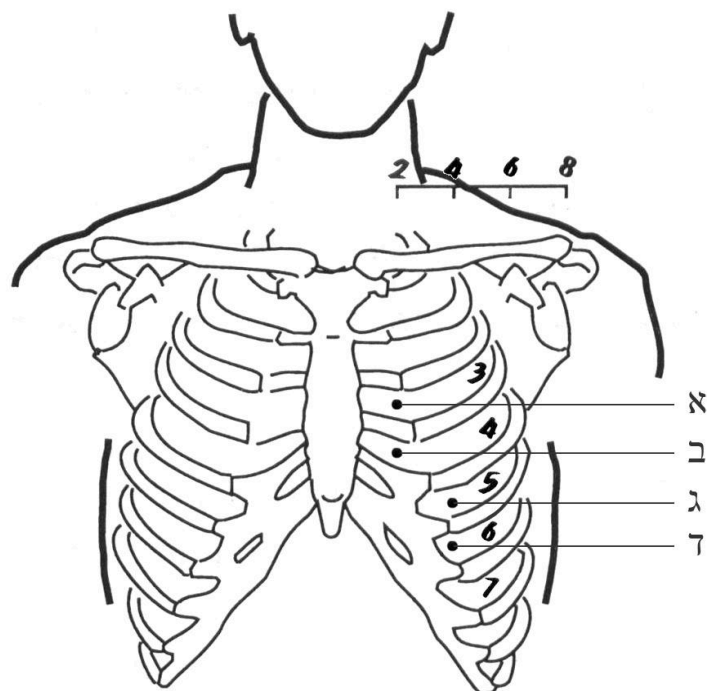
על גבי התמונות מופיעות ארבע נקודות המסומנות ב- א, ב, ג, ד. עליך לזהות איזו מבין ארבע הנקודות המסומנות היא נקודת הדיקור עליה את/ה נשאל/ת.

### **שאלות 11-20:**

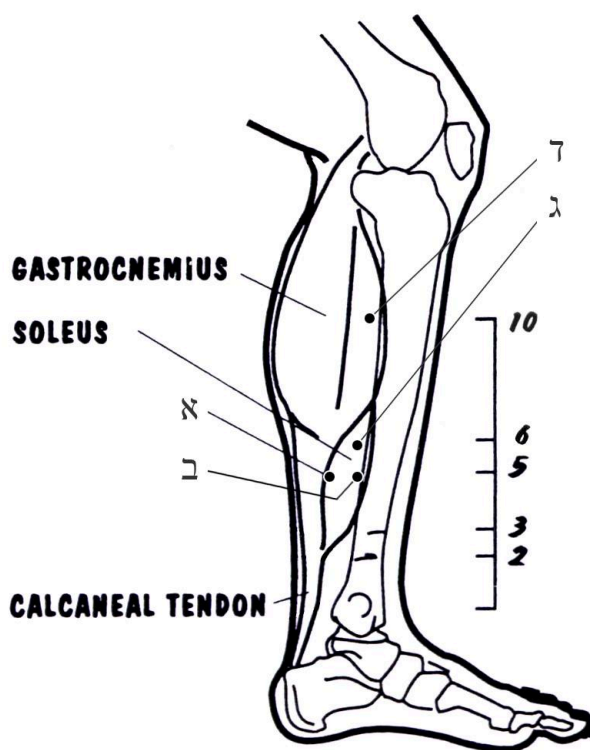
על גבי התמונות מסומנת נקודת דיקור אחת בלבד. עליך לזהות מהי נקודת הדיקור שבתמונה מבין ארבע האפשרויות הנתונות.

**בהצלחה!!!**

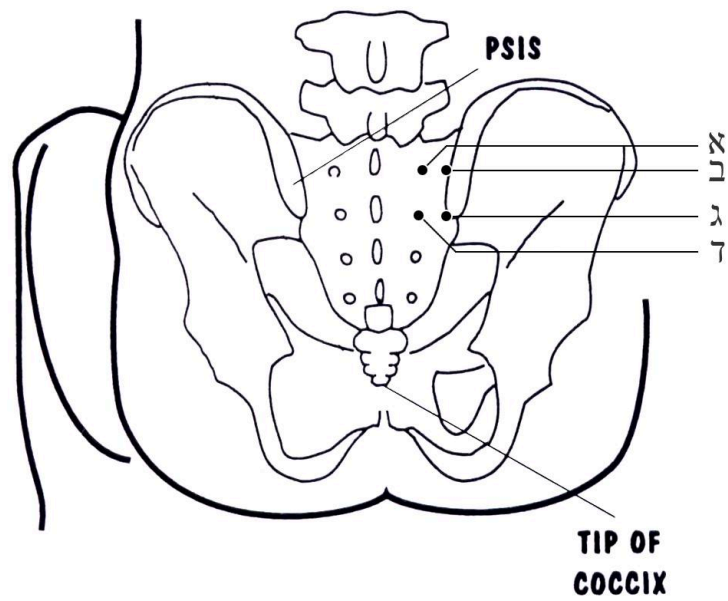
1. איזו מבין הנקודות המסומנות היא הנקודה Liv 14?



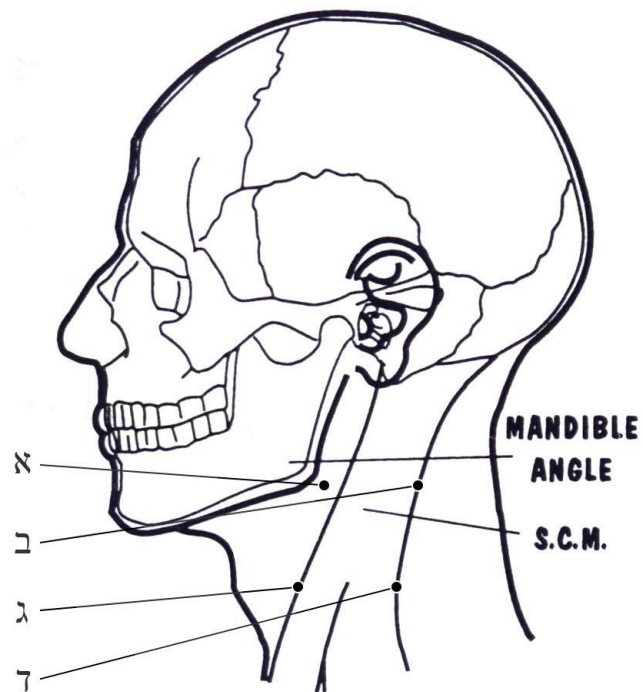
2. איזו מבין הנקודות הבאות היא הנקודה SP 8?



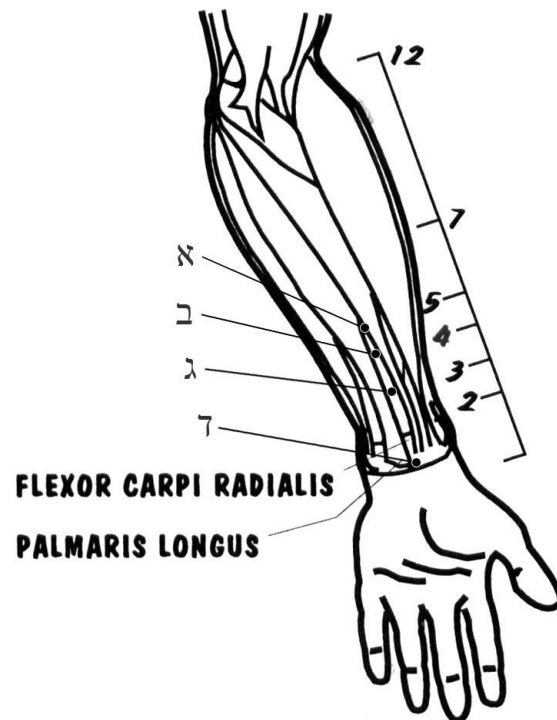
3. איזו מבין הנקודות הבאות היא הנקודה UB 28?



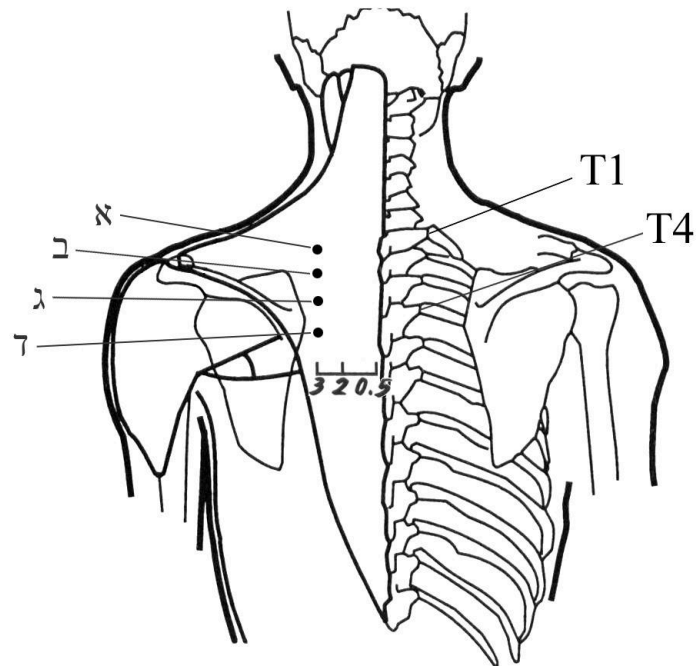
4. איזו מבין הנקודות הבאות היא הנקודה SI 17?



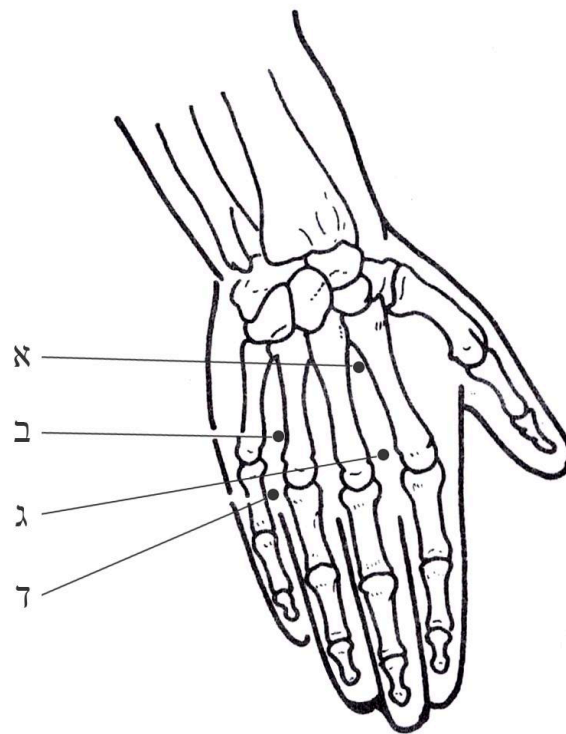
5. איזו מבין הנקודות הבאות היא הנקודה PC 5 ?



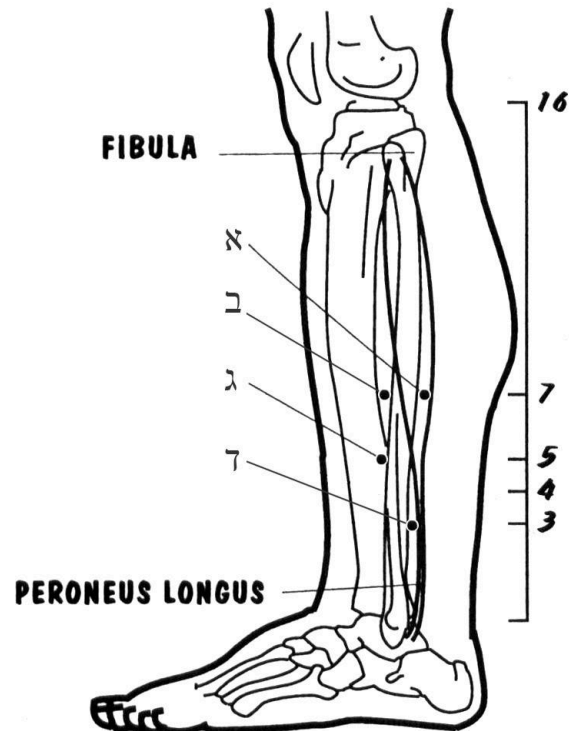
6. איזו מבין הנקודות הבאות היא הנקודה UB 43?



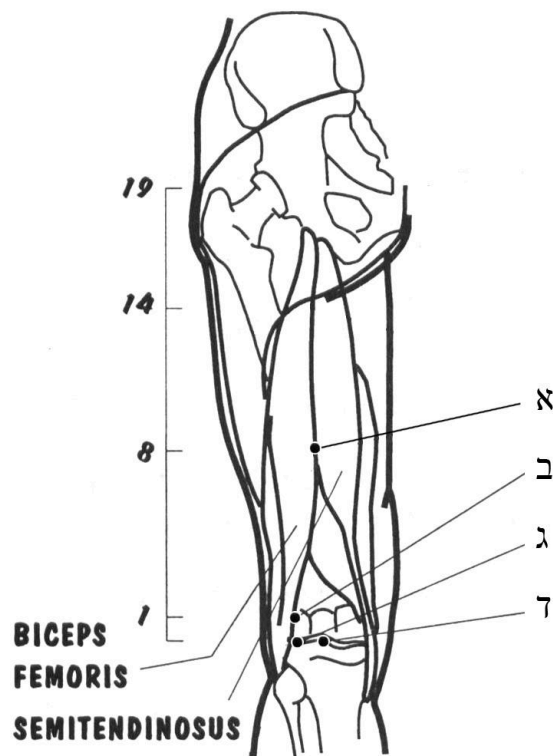
7. איזו מבין הנקודות הבאות היא אחת משתי נקודות האקסטרה Yaotongxue?



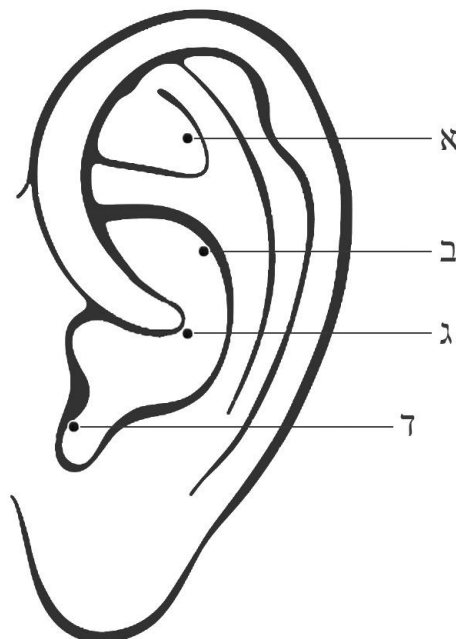
8. איזו מבין הנקודות הבאות היא הנקודה GB 39?



9. איזו מבין הנקודות הבאות היא הנקודה UB 39?



10. איזו מבין הנקודות הבאות היא הנקודה (Shenmen) (Neurogate)?



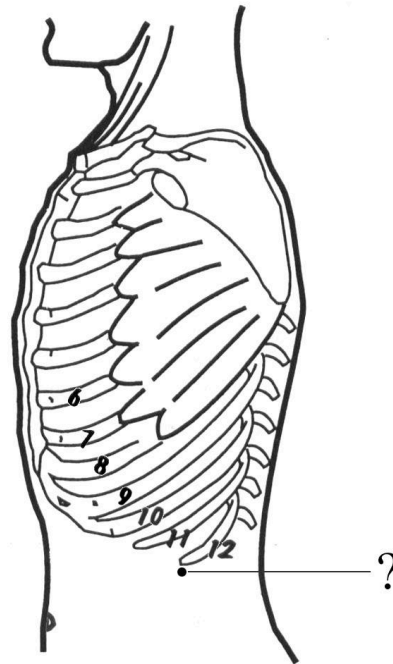
11. איזו נקודת דיקור מסומנת בציור הבא?

Liv 13 .1

GB 25 .2

UB 47 .3

SP 17 .4



12. איזו נקודת דיקור מסומנת בציור הבא?

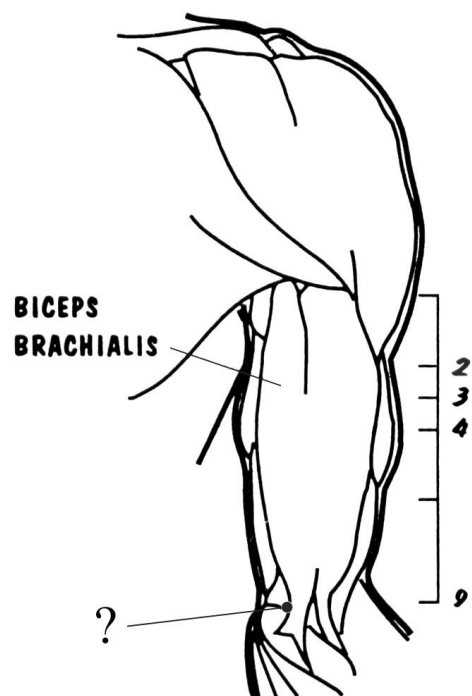
SI 8 .1

LU 5 .2

PC 3 .3

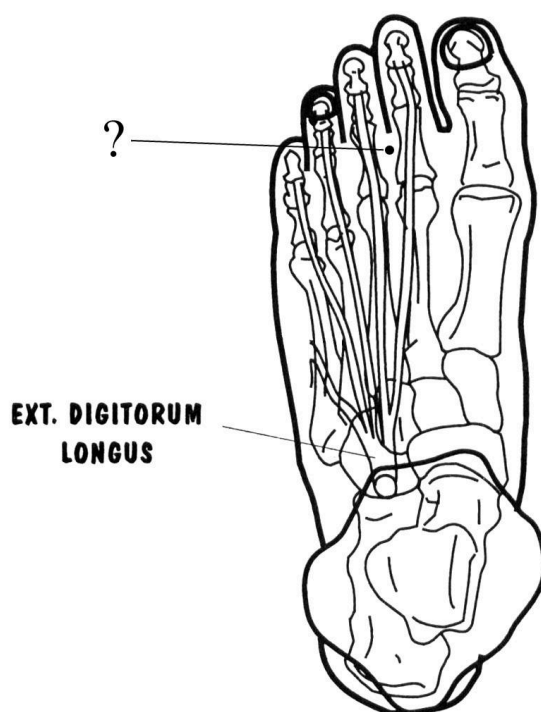
HT 3 .4





13. איזו נקודת דיקור מסומנת בציור הבא?

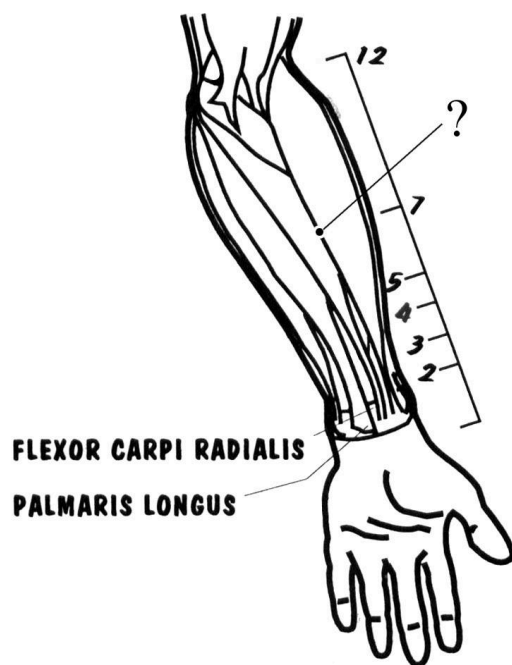
- ST 43 .1
- ST 44 .2
- GB 43 .3
- GB 44 .4



14. איזו נקודת דיקור מסומנת בציור הבא?

- SI 7 .1
- PC 4 .2
- LU 6 .3

4. נקודת האקסטרה ERBAI



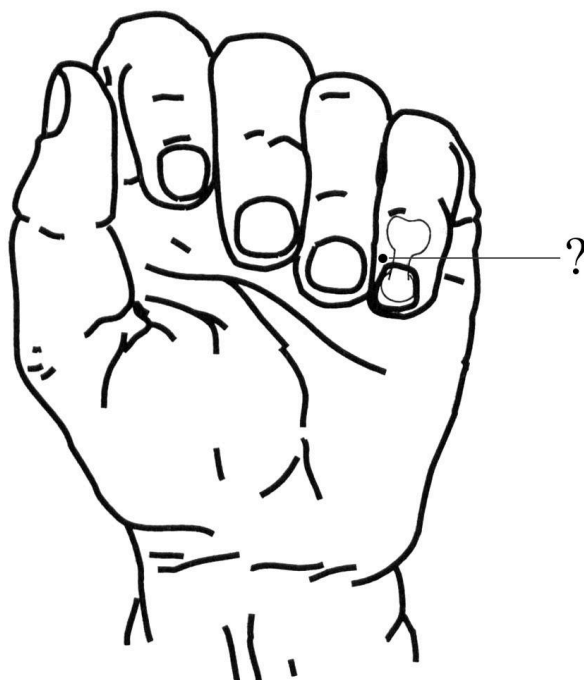
15. איזו נקודת דיקור מסומנת בציור הבא?

1. HT 9

2. SI 1

3. SJ 1

4. נקודת האקסטרה Shixuan

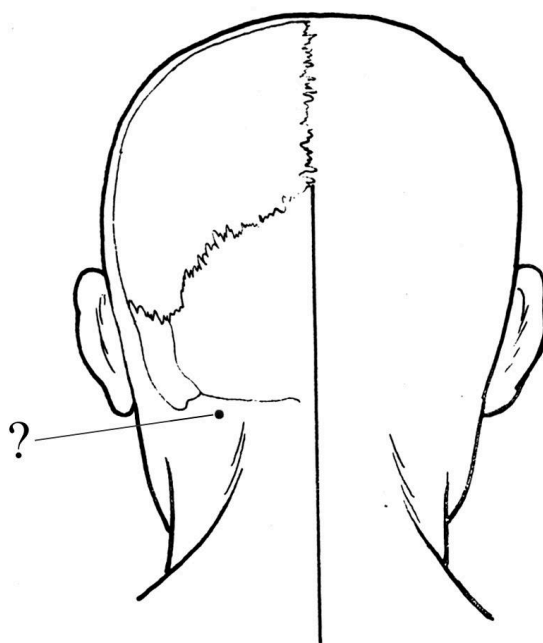


16. איזו נקודת דיקור מסומנת בציור הבא?

1. UB 10

2. UB 11

3. GB 19



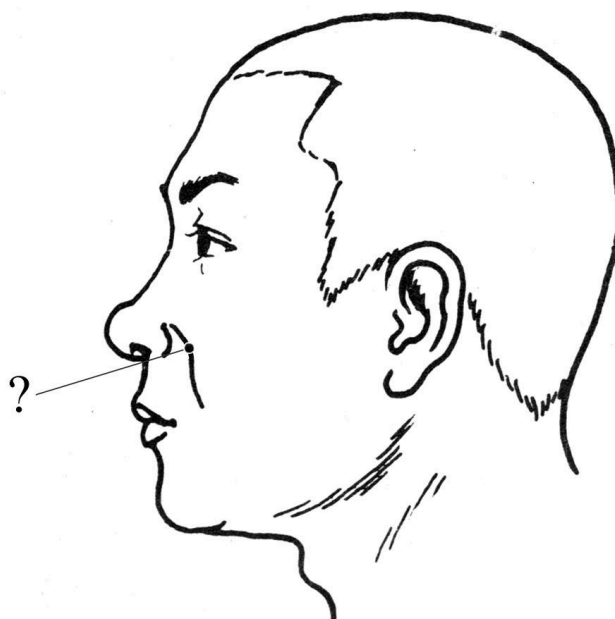
17. איזו נקודת דיקור מסומנת בציור הבא?

1. נקודת האקסטרה BITONG

2. LI 20

3. SI 18

4. ST 2

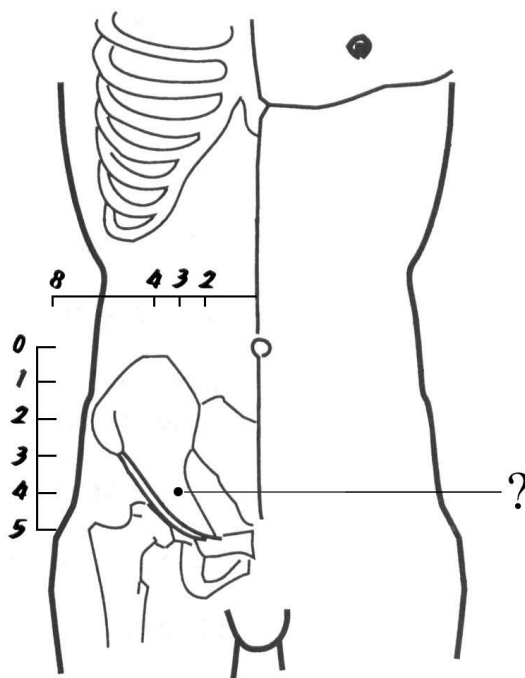


18. איזו נקודת דיקור מסומנת בציור הבא?

1. נקודת האקסטרה ZIGONGXUE

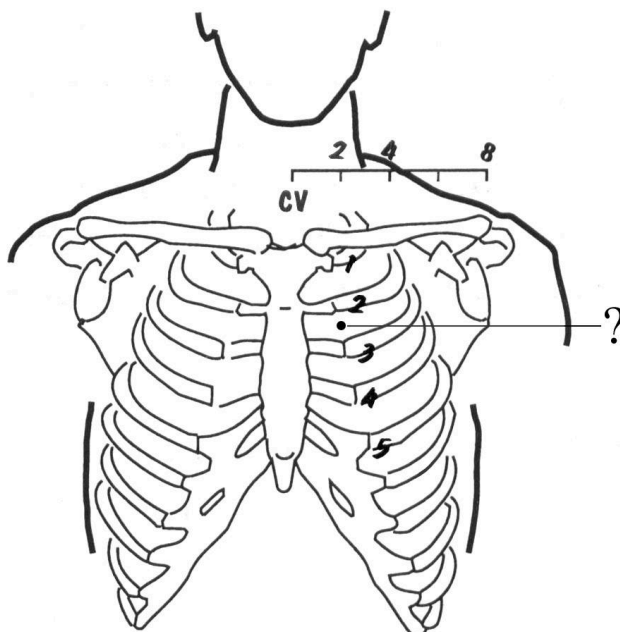
2. ST 29

Kid 12 .3  
GB 28 .4



19. איזו נקודת דיקור מסומנת בציור הבא?

- ST 15 .1
- ST 16 .2
- Kid 25 .3
- Kid 26 .4



20. איזו נקודת דיקור מסומנת בציור הבא?

- Ren 14 .1

Ren 13 .2  
Ren 12 .3  
Ren 11 .4

